

Entoure le nombre le plus grand.

2



56	24	35	47	78	54	85	79	
65	56	70	69	90	70	9	21	
58	38	48	27	35	39	36	63	35

Écris le signe < ou >.

3



3 < 6	58 60	76 80
5 > 1	84 48	62 61
23 25	90 9	70 80
78 80	61 59	58 48

Écris les nombres à la bonne place.

4




(23)	(26)	(46)	(38)	(71)	(69)
26 > 23 > <			
(56)	(60)	(70)	(58)	(82)	(67)
..... < < >			


Trace à main levée.


Dessine les formes dans les bonnes cases.


3




 → A2


 → C6

 → F3

 → B4

 → D1

 → E5

	1	2	3	4	5	6
A						
B						
C						
D						
E						
F						

Marque d'un point vert les nœuds indiqués.


4



B2 C4

B6 F6

D4 F2

	1	2	3	4	5	6
A						
B						
C						
D						
E						
F						

Le nombre mystère: entoure l'étiquette qui ne correspond à aucune addition.

$8 + 2$

$7 + 2$

$9 + 2$

$10 + 2$

9

13

11

12

10